

A la découverte de l'architecture du Soissonnais

L'ARCHITECTURE DU SOISSONNAIS

Prénom _____

➔ **L'IMPLANTATION DES VILLAGES - Ou et comment ils ont été construits.**
Observe ces trois photos qui montrent à quoi ressemblent les villages du Soissonnais.
Essays de les décrire ensemble.



Titre et commentaire :

.....

.....

.....

.....

.....

.....

Titre et commentaire :

.....

.....

.....

.....

.....

.....



CAUE DE L' AISNE



Titre et commentaire :

.....

.....

.....

.....

.....

.....

➔ **INITIATION AU VOCABULAIRE DE L'ARCHITECTURE**
Voici un ensemble de maisons traditionnelles du Soissonnais.
Colle les étiquettes qui correspondent à l'architecture de cette maison


1

2

3

4

5



6

7

8

EXERCICE PRATIQUE - COMPRENDRE ET SE REPÉRER SUR LE CADASTRE -

➔ ESSAI DE REPOSITIONNER LES PHOTOS SUR LE CADASTRE




Panorama sur la vallée de l'Aisne

➔ OBSERVONS ENSEMBLE - VOICI LE PAYSAGE QUE TU OBSERVES



- ➔ 1- TRACE LES LIGNES DE FORCE DE CE PAYSAGE
2 - REDONNE LES COULEURS PRINCIPALES À CETTE VUE



Parcours initiatique à la lecture du paysage









➔ Nous allons nous déplacer en suivant le tracé bleu.
Redonne à chaque photo son numéro (de 1 à 18) ainsi que sa légende.

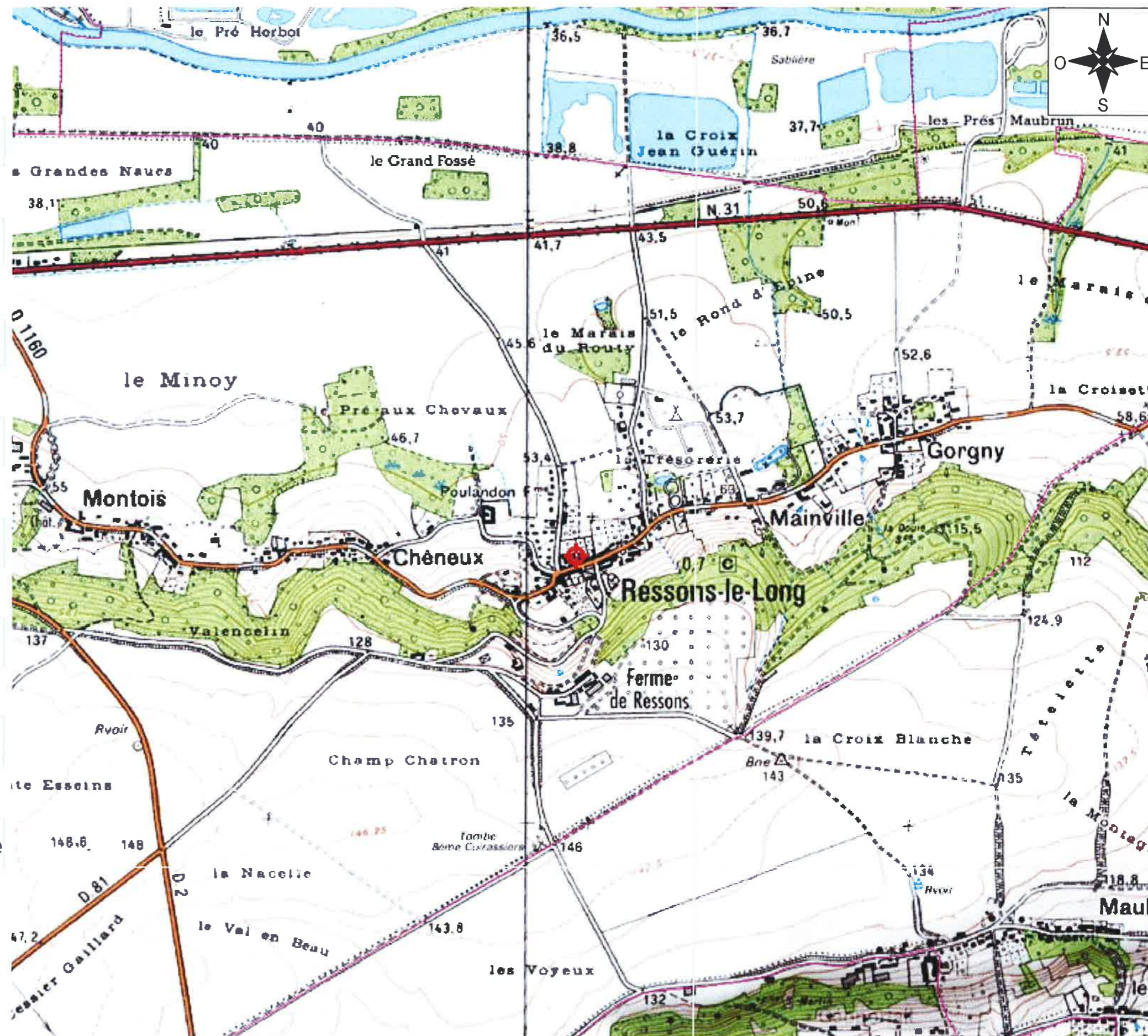
Prénom _____



EXERCICE PRATIQUE - COMPRENDRE ET SE REPÉRER SUR UNE CARTE -

➔ RELIE LES SOLUTIONS ENTRE ELLES :

-  Les constructions
-  La végétation
-  Le relief
-  La route nationale
-  La rivière Aisne
-  Les plans d'eau
-  Les champs
-  La limite communale



L'échelle : 0 500 m

FICHE D'EXPLORATION n°1

COMMENT LIRE UN PAYSAGE URBAIN ?

Prénom _____

VOICI DIFFÉRENTES FAÇONS DE REPRÉSENTER UN PAYSAGE

1. LA PHOTOGRAPHIE OU PRISE DE VUE

Titre :



Titre :

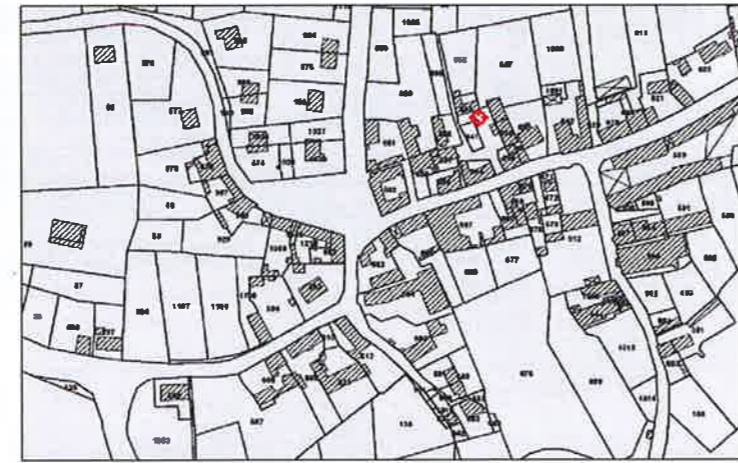


2. LE PLAN, LA CARTE

Titre :



Titre :



3. LES REPRÉSENTATIONS ARTISTIQUES

Titre :



Titre :



➔ **A TOI DE JOUER** - Redonne le titre à chaque illustration :

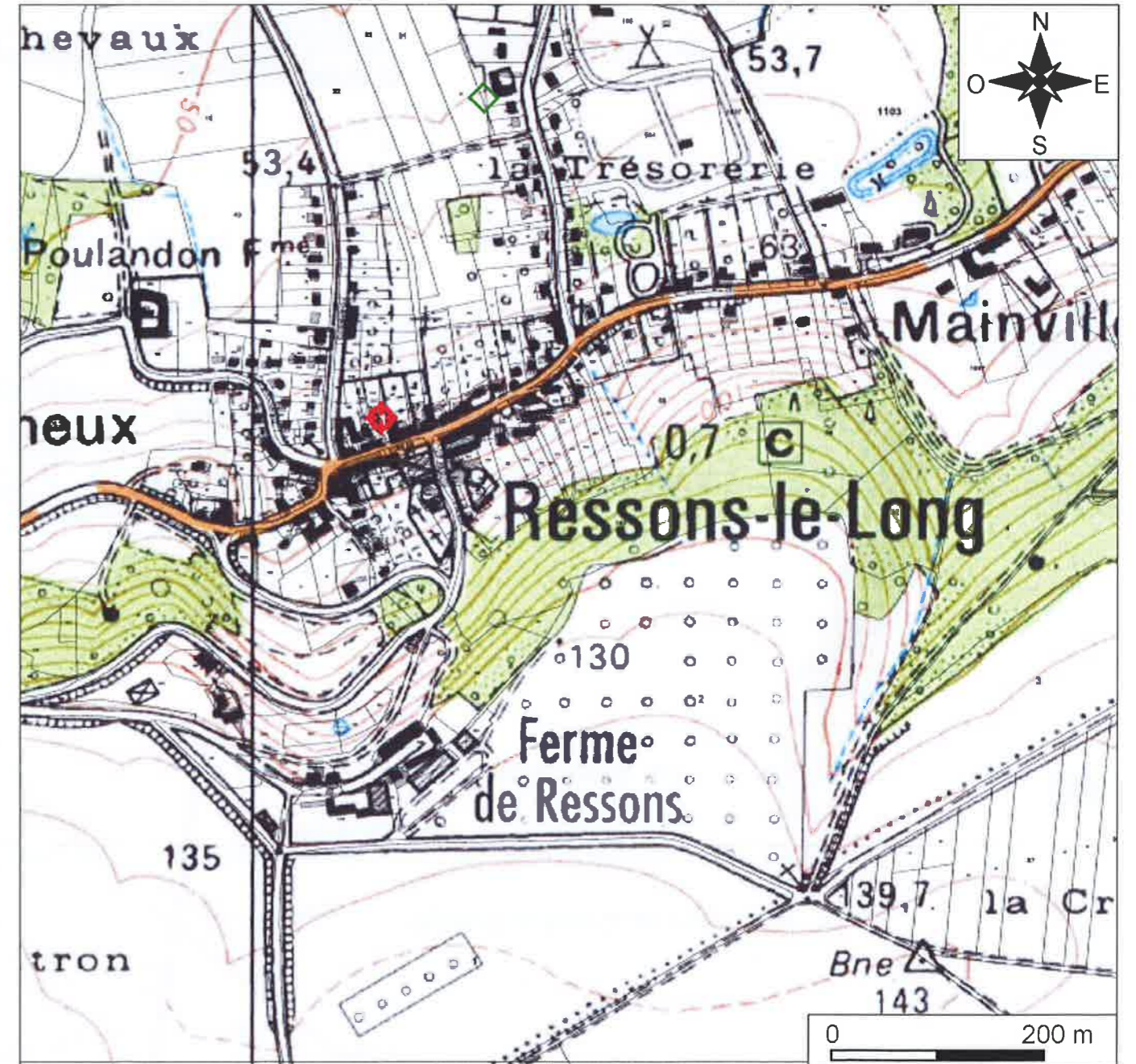
Vue aérienne - Gravure - Cadastre - Peinture - Vue éloignée - Carte I.G.N.

FICHE D'EXPLORATION n°2

COMPRENDRE UNE CARTE

➔ **TESTE TES CONNAISSANCES** - Relie les cases entre elles :

- | | | | |
|-------------------------------------|--------------------------|--------------------------|--|
| L'échelle d'une carte indique | <input type="checkbox"/> | <input type="checkbox"/> | l'orientation de la carte |
| La légende d'une carte correspond à | <input type="checkbox"/> | <input type="checkbox"/> | l'altitude |
| La rose des vents indique | <input type="checkbox"/> | <input type="checkbox"/> | la liste de tout ce qui est représenté |
| Les nombres 146 et 50 indiquent | <input type="checkbox"/> | <input type="checkbox"/> | la distance réelle |




Le village de Resson-Le-Long

- | | | |
|-------------------------|-----------|------------|
| La traversée du village | Le relief | Le végétal |
| Les autres routes | L'eau | |

Essai de croquis - Dessin au crayon

Dessine le paysage que l'on observe. Tu peux t'aider de la photo.



Essai de croquis - Dessin au crayon

→ Dessine le paysage que t'on observe. Tu peux t'aider de la photo.



**Pignon à redents
ou à pas de moineau**

Bâti en pierre de taille

Corniche

Toiture en ardoise

**Cheminée avec la souche
en pierre de taille**

**Seuil de la porte
en pierre**

Bandeau

Tuiles de faîtage